



CONCURSUL NAȚIONAL „SUPERELEV”

AN ȘCOLAR 2024-2025
ETAPA I (20-22 noiembrie)

PUNCTAJ

CLASA PREGĂTITOARE

Ziua Națională a României
de Vali Slavu

*Foarte mult ne-am bucurat
Când, la școală, am aflat
Că și România are
Ziua ei. Cu mic, cu mare,
Fericiți, ne pregătim
Țara s-o sărbătorim.
Punem steaguri, învățăm
Poezii și desenăm
Românași încântători,
Artificii, inimi, flori
Roșii, galbene și-albastre,
Pentru ziua țării noastre.*



1

Încercuiește varianta corectă. Numele țării noastre începe cu litera:

A) U

B) R

C) A

D) N

2

Unde au aflat copiii că și România are o zi a ei?



3

Alege imaginea a cărei denumire este formată din trei silabe.



4

Din câte cuvinte este formată propoziția următoare?

Copiii sărbătoresc Ziua României.

A) 3 cuvinte

B) 2 cuvinte

C) 4 cuvinte

D) 5 cuvinte

5

Ascultă ghicitoarea și alege imaginea corespunzătoare răspunsului corect.

„Roșu, galben și albastru
Sunt culorile pe care
El le flutură în zare!”

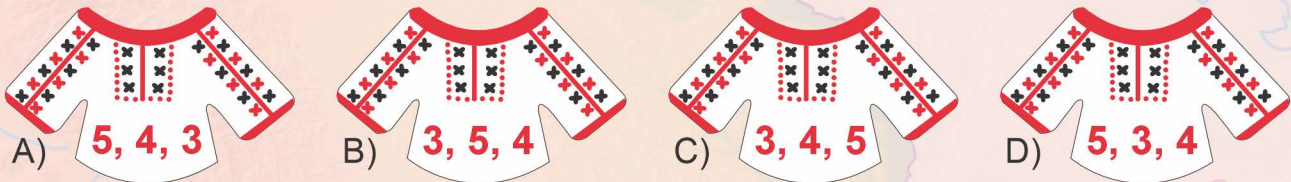
**6**

Ce număr lipsește de pe căsuță?

- A) 0 B) 2
C) 5 D) 4

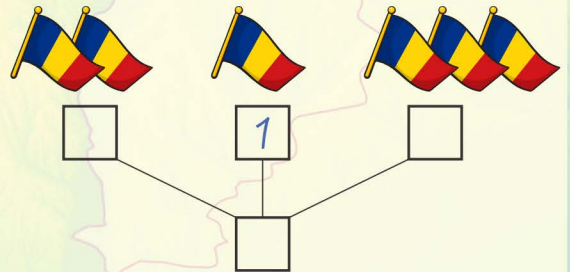
**7**

Alege ia pe care numerele sunt așezate în ordine crescătoare.

**8**

Câte stegulețe au confecționat în total copiii?
Ajutându-te de imagini, compune numărul!

- A) 5 B) 3 C) 6 D) 4

**9**

În ce anotimp sărbătorim Marea Unire (1 Decembrie) și Unirea cea Mică (24 Ianuarie)?

**10**

Alege imaginea care prezintă starea copiilor când se pregătesc să sărbătorească Ziua Națională a României.



CLASA I

Alina și Vlad sunt la bunici.

– Măine este 1 Decembrie, Ziua Națională a României. În anul 1918 s-a înfăptuit Unirea, visul tuturor românilor! spuse bucuros bunicul.

– Și noi vom dansa la școală hora Unirii! Vom confecționa stegulețe, vom aduce baloane și vom purta costume populare.

– 1 Decembrie este o zi a bucuriei și a mândriei, o sărbătoare pentru toți cei ce poartă în suflet culorile tricolorului nostru.

La mulți ani, românași și româncuțe!



1

Încercuiți varianta corectă. La 1 Decembrie, românii sărbătoresc:

A) Ziua Tricolorului
C) Hora Unirii

B) Ziua Mamei
D) Ziua Națională a României

2

Cuvintele **ziua**, **visul**, **unire**, **bucurie**:

A) au același număr de silabe și conțin litera **u**
C) se termină cu aceeași literă

B) conțin litera **u**
D) încep cu aceeași literă

3

Potrivind silabele următoare obții cuvântul:


A) ROMÂN
C) ROMÂNAȘ

B) MÂNUȚE
D) ROMÂNCUȚE



4

Care este ordinea cuvintelor pentru a forma o propoziție?



A) M, U, N, I

B) U, M, I, N

C) N, M, I, U

D) I, N, M, U

5

Se dă seria de cuvinte: **români**, **tricolor**, **unire**, **bucurie**. La fiecare cuvânt, sunetul „i” se aude în silabele cu numărul:

A) 3, 1, 1, 4

B) 6, 3, 3, 6

C) 2, 1, 2, 3

D) 1, 1, 2, 3

6

Vântul toamnei târzii a furat câte un cuvânt din fiecare propoziție. Citește propozițiile și alege ordinea corectă a cuvintelor lipsă.

Alina poartă o _____ nouă.
 Vlad a confecționat un _____ .
 Copiii au primit _____ multe.
 Culorile tricolorului sunt roșu, _____ și albastru.

a) baloane
 b) galben
 c) steag
 d) ie

A) *d c a b* B) *b a c d* C) *a b c d* D) *d c b a*

7

Vlad a cumpărat 3 stegulețe, iar Alina are cu 5 stegulețe mai mult. Câte stegulețe are Alina?



A) 5 B) 8 C) 3 D) 7

8

Răsturnatul lui 12 reprezintă numărul baloanelor aduse de copii. Acesta este:

A) 12 B) 11 C) 21 D) 22

9

În horă s-au prins 10 copii, au plecat 6 și au mai venit încă 5. Câți copii sunt în horă acum?

A) 15 B) 8 C) 10 D) 9



10

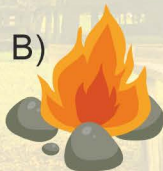
14 18 17 22 19 26 21 20 16

Ajută-i pe copii să ordoneze descrescător stegulețele pe care sunt scrise numere pare cuprinse între 14 și 26.

A) 26, 22, 20, 16 B) 22, 20, 18, 16 C) 16, 18, 20, 22 D) 21, 19, 17, 14

11

Descoperă principala sursă de căldură și lumină a planetei Pământ.



12

Ce sentimente au trăit românii de 1 Decembrie?

A) tristețe B) bucurie C) dezamăgire D) liniște

CLASA a II-a

”Anuța, împreună cu Pătrașcu din Rucăr și Ștefăniță din Moldova au însoțit pe bătrânul țaran transilvănean care, pe o tavă acoperită cu un prosop de borangic, înfățișa Măriei Sale pâinea și sarea, cu urarea de bun sosit în cetatea Alba Iulia. Apoi, un căpitan tânăr și mândru i-a dat cheia cetății situată pe Dealul Citadelei.

În clipa aceea au izbucnit chiote și urale:

– Trăiască Măria Sa, Mihai Vodă, domnul tuturor românilor!

Până atunci, românii nu trăiseră un moment mai mare, mai înălțător, mai de neuitat.

Se zice că, în acele minute, pe cerul de deasupra cetății Alba Iulia a apărut iar un șoim mare. S-a rotit de câteva ori, apoi s-a coborât și a lăsat al treilea mărgăritar, și mai strălucitor. Măria Sa voievodul s-a aplecat, l-a ridicat, l-a privit zâmbind, l-a pus în chimir, lângă celelalte două și a zis:

– Semn bun, s-a împlinit visul meu și al poporului!”

(după „Mihai Viteazul, voievod al tuturor românilor”, de Dumitru Almaș)

1

Cine i-a oferit lui Mihai Vodă pâinea și sarea ca semn de bun venit?

A) Anuța, Pătrașcu și Ștefăniță
C) un căpitan tânăr și mândru



B) un țaran transilvănean
D) toți românii prezenți

2

Unde a avut loc întâmpinarea lui Mihai Vodă?

A) la Rucăr
C) în cetatea Alba Iulia

B) în Moldova
D) în Transilvania



3

Ce semn a fost considerat de Mihai Vodă o împlinire a visului său?

A) al treilea mărgăritar adus de șoim
C) chiotele și uralele mulțimii

B) cheia cetății
D) pâinea și sarea oferite

4

Câte cuvinte din text conțin litera „â”?

A) 11

B) 12

C) 9

D) 10

5

Câte cuvinte din al patrulea alineat se termină cu litera „ă”?

A) 5

B) 4

C) 2

D) 3

6

Despărțirea corectă în silabe a cuvântului **românilor** este:

A) ro-mâ-ni-lor

B) ro-mân-i-lor

C) ro-mâ-ni-lo-r

D) rom-â-ni-lor

7

Anuța vrea să afle câți români îl întâmpină pe Mihai Vodă, știind că pe o parte a drumului sunt 467 de oameni, iar pe cealaltă 320. O poți ajuta să calculeze numărul lor?

A) 667

B) 885

C) 127

D) 787

8

Căpitanul domnitorului te pune la încercare să găsești șirul de numere corect:

A) 315, 316, 317, 318, 320

B) 304, 309, 306, 308, 310

C) 800, 795, 790, 785, 780

D) 507, 610, 710, 810, 910

9

Pătrașcu vrea să scrie câteva numere pare de trei cifre, care au pe locul zecilor cifra 8. Îl ajuți să aleagă varianta corectă?

A) 283, 284, 286, 288, 289

B) 382, 484, 580, 686, 782

C) 481, 482, 584, 684, 784

D) 980, 783, 582, 486, 982

10

Ștefăniță caută predecesorul și succesorul numărului 900. Ce variantă să aleagă?

A) 899 și 901

B) 890 și 901

C) 899 și 902

D) 898 și 902

11

O frunză a acoperit exercițiul Anuței. Ce număr se ascunde sub frunză?

A) 92

B) 428

C) 378

D) 112

$$235 = \text{frunză} - 143$$

12

Găsiți ordinea corectă a semnelor „+” sau „-” pentru a realiza operațiile:

$$59 \bigcirc 28 = 87; \quad 45 \bigcirc 31 = 14; \quad 34 \bigcirc 38 = 72; \quad 96 \bigcirc 58 = 38$$

A) „+” „+” „-” „-”

B) „+” „-” „-” „+”

C) „-” „+” „-” „-”

D) „+” „-” „+” „-”

13

Cea mai înaltă formă de relief pe care o regăsim în text este:

A) câmpia

B) dealul

C) muntele

D) valea

14

Alegeți imaginea potrivită familiei pentru a sărbători Ziua României.

A)



B)



C)



D)



CLASA III-a

A sosit iarna geroasă. Câțiva fulgi timizi au început să cadă din văzduhul nemărginit, spre bucuria copiilor. Se apropie și Ziua Națională, iar noi, împreună cu doamna învățătoare, ne-am apucat să decorăm clasa cu stegulețe în cele trei culori: roșu, galben și albastru.

Am început repetițiile pentru programul de 1 Decembrie: poezii, cântece patriotice și hora Unirii. Suntem entuziasmați, fiindcă vom merge la Muzeul de Istorie, unde vom prezenta programul pregătit, apoi vom urmări parada militară. Vom avea în piept cocarde în culorile tricolorului și vom îmbrăca costume populare, vechi de 25 de ani.

1

Alege un titlu potrivit pentru textul citit:

- A) În pădure B) La bunici C) 1 Decembrie D) Vacanța

2

În enunțul „*Câțiva fulgi timizi au început să cadă din văzduhul nemărginit, spre bucuria copiilor.*” substantivul subliniat denumește:

- A) o acțiune B) o ființă C) o stare sufletească D) un fenomen al naturii

3

Alege cuvintele cu sens asemănător pentru: **geroasă, văzduhul, bucuria.**

- A) bună, înaltul, tristețea B) friguroasă, cerul, fericirea
C) călduroasă, aerul, uimirea D) friguroasă, aerul, tristețea

4

Cuvântul **Decembrie** are:

- A) 9 litere, 9 sunete B) 9 litere, 7 sunete
C) 9 litere, 8 sunete D) 8 litere, 8 sunete

5

Despărțirea corectă în silabe a cuvântului **entuziasmați** este:

- A) entu-zi-as-mați B) en-tu-zi-as-mați
C) en-tu-zias-mați D) en-tuzi-as-mați

6

Găsește cuvântul potrivit pentru schema dată: **CVC - CVC.**

- A) văzduhul B) galben C) norii D) paradă

7

Scrive cu cifre romane numărul care reprezintă vechimea costumelor populare.

- A) XXI B) XXV C) XXIV D) XIV

8

Alege succesorul numărului 1917 și vei afla anul în care a avut loc Marea Unire de la Alba Iulia.

- A) 1916 B) 1921 C) 1920 D) 1918

9

Copiii au confecționat cocarde pentru oamenii din mulțime. Cine a pregătit cele mai multe?

| Maria | Marin | Mircea | Mihnea |
|-------|-------|--------|--------|
| 3 897 | 3 870 | 3 899 | 1 007 |

- A) Maria B) Marin C) Mircea D) Mihnea



10

Care este numărul total de cocarde confecționate de Maria, Marin și Mihnea?

- A) 7 890 B) 8 640 C) 8 774 D) 9 867

11

Mihnea vrea să calculeze numărul copiilor care participă la paradă. El știe că sunt 2 000 de băieți, iar numărul fetelor este egal cu cel mai mic număr par format din patru cifre diferite. Câți copii participă la paradă?

- A) 3 234 B) 3 010 C) 3 002 D) 3 024

12

Parada de 1 Decembrie va avea loc pe un bulevard cu lungimea de 2 876 metri. Rotunjită la ordinul miilor, lungimea lui devine:

- A) 2 000 m B) 3 000 m C) 2 500 m D) 3 500 m

13

De ce au nevoie plantele pentru a se dezvolta?

- A) apă, căldură, sol B) lumină, căldură, apă, sol
C) apă, lumină D) sol, apă, lumină

14

Ce rol are FRUNZA unei plante?

- A) prepară hrana B) transportă apa
C) extrage apa din sol D) transportă substanțele nutritive

15

De ce trăsătură crezi că au dat dovadă strămoșii noștri în luptele purtate?

- A) lașitate B) curaj C) frică D) teamă



CONCURSUL NAȚIONAL „SUPERELEV”

AN ȘCOLAR 2024-2025
ETAPA I (20-22 noiembrie)

PUNCTAJ

CLASA a IV-a



Mihai și Ioana sunt elevi în clasa a IV-a. Anul acesta, s-au hotărât să meargă cu părinții lor la parada zilei de 1 Decembrie. Au învățat la ora de istorie că 1 Decembrie este Ziua Națională a României. Sunt foarte entuziasmați.

Dar, pentru a merge, au o singură condiție de îndeplinit: să își termine temele.

Ce ziceți, îi ajutăm să lucreze mai repede?



1

Cuvintele cu sens asemănător pentru **drapel**, **ostaș**, **patrie** sunt:

A) drapel, patriot, neam
C) steag, soldat, țară

B) steag, român, patriot
D) drapel, ostaș, țară

2

Copiii au de alcătuit o compunere cu tema „**Noi suntem români!**”. Care sunt părțile unei compuneri?

A) introducere, alineat, cuprins
C) introducere, cuprins, fragment

B) alineat, cuprins, fragment
D) introducere, cuprins, încheiere

3

În enunțul „**Mulți eroi s-au jertfit pentru libertatea țării.**” substantivul subliniat denumește:

A) o însușire

B) o ființă

C) o acțiune

D) o stare sufletească

4

Identifică seria de verbe la timpul trecut:

A) au luptat, a fluturat, biruit-au, au eliberat
C) au luptat, s-a câștigat, alerg, luptă

B) luptă, va flutura, biruit-au, au câștigat
D) biruiesc, au eliberat, flutură, luptat-au

5

În enunțul „**Un viteaz a câștigat lupta cea mare.**” cuvântul subliniat este:

A) adjectiv

B) pronume

C) verb

D) substantiv

6

La paradă au sosit batalioane cu soldați din cele patru zone ale țării. Ei au adus diferite tipuri de arme folosite în luptă. Cei din **N** au adus 71 350 de arme, cei din **S** au adus 171 350 de arme, cei din **V** au adus 117 350 de arme și cei din **E** au adus 87 350 de arme. Numărul armelor aduse de batalionul din **S** se scrie cu litere:

A) o sută șaptezeci și unu de mii treisute cincizeci
B) o sută șaptezeci și una de mii trei sute cincizeci
C) o sută și șaptezeci și unu de mii trei sute cincizeci
D) o sută șapte zeci și unu de mii trei sute cinci zeci

7

Așezați numărul armelor în ordine crescătoare.

- A) N, V, E, S B) S, N, E, V C) N, E, V, S D) E, S, N, V

8

Care batalion a adus mai multe arme: cel din N sau cel din E?

- A) ambele grupuri B) E C) egalitate D) N

9

Care dintre cele patru numere de la exercițiul 6, rotunjite la ordinul miilor, devine 172 000?

- A) niciunul B) toate C) primele două D) doar cel din S

10

Din suma numărului de arme aduse de cei din S și E scade suma numărului de arme aduse de cei din N și V. Ce rezultat ai obținut?

- A) 188 700 B) 278 700 C) 190 000 D) 70 000

11

Marea Unire s-a împlinit la 1 Decembrie 1918. Despre ce mileniu este vorba?

- A) primul mileniu - M B) al doilea mileniu - MM
C) al treilea mileniu - MMM D) înainte de Hristos

12

Vecinii regiunii Muntenia la V și E sunt:

- A) Banat și Dobrogea
B) Transilvania și Moldova
C) Oltenia și Moldova
D) Oltenia și Dobrogea



Harta României

13

Alege varianta corectă care descrie ciclul de viață al fluturilor:

- A) ou, mormoloc, pupă, fluture B) embrion, ou, mormoloc, fluture
C) ou, larvă, pupă, fluture D) ou, larvă, embrion, fluture

14

Zimbrul, un mamifer reprezentativ pentru țara noastră, este o specie rară și protejată prin lege. Acesta se înmulțește prin _____ pe care îi hrănește cu _____.

- A) ouă, lapte matern B) pui vii, lapte matern
C) pui, insecte D) pui, cereale

15

La ora de Educație civică, Mihai și Ioana au aflat că simbolurile țării noastre sunt:

- A) stema, imnul, leul B) teritoriul, stema, drapelul
C) drapelul, imnul, stema D) imnul, stema, ziua națională