

## CLASA PREGĂTITOARE

### Mama

de Nina Cassian

M-a crescut mama în poală  
Din leagăn și pân' la școală.  
Zile-ntregi și nopți de-a rândul  
Mi-a vegheat somnul și gândul.

M-a-nvățat să gânguresc,  
Să spun "mamă", să zâmbesc,  
M-a-nvățat apoi prin casă  
Primii pași până la masă.

M-a învățat să nu mint,  
M-a-nvățat să nu m-alint,  
Să nu știu ce este frica -  
Toate m-a-nvățat mămica!

Mamă bună, mamă dragă,  
Te-oi iubi o viață-ntreagă  
Pentru tot ce ai făcut,  
Pentru că tu m-ai crescut.



1

Numele persoanei despre care se vorbește în poezie începe cu litera:

- A) B) C) D)

2

Desparte în silabe cuvintele sugerate de imagini.  
Câte cuvinte formate din două silabe ai găsit?

- A) 3 B) 1  
C) 2 D) 4



3

Alege reprezentarea grafică potrivită pentru cuvântul **PRIMĂVARA**,  
în care să fie marcat locul sunetului „r”:

- A) B) C) D)

4

Scrive în casetă prima literă a cuvântului sugerat de imagine. Ce cuvânt ai obținut?












- A) ALINA  
B) ALIN  
C) TALENT  
D) ALINT


**5** Alina pregătește flori pentru mama. Ea cumpără 5 lalele și 4 zambile. Câte flori va oferi ea mamei?

- A) 9
- B) 10
- C) 1
- D) 8



**6** Desenează în vază cu 3 mai multe flori decât numărul indicat în cerc, apoi scrie în pătrat numărul de flori obținut.

- A) 7
- B) 4
- C) 5
- D) 3



**7** Din cele 9 flori pe care mama le-a primit, 3 s-au ofilit în ziua următoare. Câte flori au rămas în vază?

- A) 6
- B) 5
- C) 12
- D) 3



**8** Observă regula după care sunt colorate florile și alege varianta corectă de continuare a șirului:



A)



C)



B)



D)



**9** În ce anotimp sărbătorim ziua mamei?

A)



B)



C)



D)



**10** Mama m-a învățat să nu știu ce este ...

A)



B)



C)



D)



## CLASA I

### E ziua ta, mămico!

de Elena Dragoș

*E ziua ta, mămico,  
În dar ți-am adus inima!  
Și crede-mă, mămico,  
Un dar mai frumos nu se putea.*

*Am vrut să-ți culeg o floare,  
Un mic ghiocel frumos,  
Dar până la urmă moare  
Și cui e de folos.*

*Am vrut să-ți culeg o rază,  
De soare să-ți prind în păr,  
Dar tu strălucești mai tare  
De dragoste și dor!*



1

Copilul i-a adus mamei în dar:

- A) inima                      B) o stea                      C) soarele                      D) o floare

2


Mama strălucește de:

- A) fericire și dor                      B) dragoste și dor                      C) iubire și fericire                      D) dragoste și bucurie

3

Combinând toate literele scrise pe flori, vei obține cuvântul:

- A) mică                      B) mămică                      C) mămico                      D) amică



4

Câte silabe are propoziția **Mama mea este cea mai bună.** ?

- A) 8                                      B) 9                                      C) 7                                      D) 10

5

Alege propoziția scrisă corect.

- A) lorena e cu Tania.                      B) Lorena e cu tania.  
C) Lorena e cu Tania.                      D) Lorena e cu Tania

6

Propoziția corespunzătoare imaginii este:

- A) Cornel oferă mamei lalele.                      B) Corina oferă mamei vioarele.  
C) Mama oferă fetei lalele.                      D) Corina oferă mamei lalele.



**7** Sorin i-a oferit mamei de 8 Martie un buchet format din 5 violele și 7 toporași. Câte flori erau în buchet?

A) 13

B) 12

C) 11

D) 20

**8** Elevii clasei I au confecționat 14 felicitări și 11 mărtișoare. La târgul de primăvară au vândut 9 felicitări și 9 mărtișoare. Câte felicitări și câte mărtișoare au mai rămas?

A) 5 felicitări și 1 mărtișor

B) 5 felicitări și 2 mărtișoare

C) 2 felicitări și 5 mărtișoare

D) 4 felicitări și 2 mărtișoare

**9** Raluca a cumpărat 28 lalele. A oferit mamei 9 lalele, bunicii tot 9 lalele, iar sorei sale 5 lalele. Câte flori i-au rămas Ralucăi?

A) 6

B) 10

C) 5

D) 14



**10**

Dacă:

$$\text{butterfly} + \text{butterfly} = 8$$

$$\text{ladybug} + \text{butterfly} = 5$$

$$\text{ladybug} + \text{ladybug} + \text{bee} = 7$$

Rezultatul calcului

$$\text{bee} - \text{butterfly} - \text{ladybug} \text{ este:}$$

A) 8

B) 2

C) 10

D) 0



**11**

Pentru producerea curentului electric sunt folosite:

A) forța apei, a vântului și energia Soarelui  
C) energia Soarelui

B) forța apei și a vântului  
D) forța apei și energia Soarelui

**12**

Încercuiește varianta care reprezintă cuvântul nepotrivit unei prietenii adevărate:

A) bunătate

B) dărnicie

C) sinceritate

D) răutate

CLASA a II-a



Cea mai scumpă de pe lume

de Nichita Stănescu

Spune-mi, care mamă-anume  
cea mai scumpă e pe lume?  
Puii toți au zis de păsări,  
zarzării au zis de zarzări,  
peștișorii de peștoaică,  
ursuleții de ursoaică,  
șerpișorii de șerpoaică,  
tigrisorii de tigroaică,  
mânjii toți au zis de iepe,  
firul cepii-a zis de cepe,  
nucii toți au zis de nucă,  
cucii toți au zis de cucă,  
toți pisoii, de pisică,  
iară eu, de-a mea mămică.  
Orice mamă e anume  
cea mai scumpă de pe lume!



1

Titlul textului este:

- A) Cea mai bună mamă  
B) Cea mai dragă de pe lume  
C) Cea mai scumpă de pe lume  
D) Cea mai scumpă mamă

2

Perechea incorectă pentru a exprima **unul – mai multe** este:

- A) ursuleț – ursuleți  
B) peștișor – peștișori  
C) tigrisor – tigrisori  
D) mamă – mămică



3

Cuvântul alintat din seria următoare este:

- A) mânjii  
B) cucii  
C) pisoii  
D) ursuleții

4

Ultimele două versuri ale poeziei au:

- A) 10 cuvinte  
B) 9 cuvinte  
C) 8 cuvinte  
D) 7 cuvinte

5

Dintre animalele următoare, care nu au fost întrebat?

- A) mânjii  
B) tigrisorii  
C) elefanteii  
D) ursuleții

6

Cuvântul **scumpă** se potrivește cu schema:

- A) ccvcc  
B) ccvccv  
C) cvcvcv  
D) ccvccv

**7**

Pisoii întrebați erau 20, iar pisicile erau jumătate din numărul pisoilor. Câte pisici erau?

A) 5

B) 8

C) 10

D) 15

**8**

Calculează produsul dintre suma și diferența numerelor de pe baloanele ursulețului și alege rezultatul corect:

A) 35

B) 45

C) 55

D) 30

**9**

Într-un acvariu sunt 49 de peștișori. 12 sunt peștișori negri, cu 7 mai mulți sunt peștișori albaștri, iar restul sunt aurii. Câți peștișori aurii sunt?

A) 25

B) 19

C) 24

D) 18

**10**

Mama primește trei buchete cu câte 5 trandafiri și două buchete cu câte 3 lalele. Câte flori a primit mama în total?

A) 21

B) 9

C) 13

D) 14

**11**

Mama are cu 28 de ani mai mult decât fiica ei, Ema. Dacă Ema are acum 5 ani, câți ani au împreună?

A) 33

B) 56

C) 38

D) 35

**12**

Cinci nuci cântăresc cu 27 de grame mai mult decât două nuci. Cât cântăresc 9 nuci?

A) 36

B) 81

C) 54

D) 45

**13**

Ce nu face mama pentru menținerea sănătății copilului său?

A) spală hainele

B) calcă îmbrăcămintea

C) nu spală vasele

D) gătește

**14**

În ce imagine se observă o ascultare activă între două persoane?



## CLASA a III-a



## De ziua mamei

de Elena Farago



Eu nu sunt destul de mare  
Ca să pot să-nvăț măcar,  
De pe carte, o urare,  
Și nu sunt destul de mare  
Ca să-ți dau un dar.



Dar îți dau o sărutare,  
Ici, pe obrăjor  
Și pe mâna asta care,  
Mă-ngrijește-n fiecare  
Zi, cu-atâta dor!

Zile lungi și voie bună  
Îți doresc eu mult,  
Și mă rog de flori să-ți spună  
Să mă ierți, mămică bună,  
Că nu știu mai mult!

1

Textul de mai sus este:

- A) narativ      B) liric      C) nonliterar      D) funcțional

2

Identifică substantivul din următoarele versuri :

- A) mare      B) destul      C) dau      D) dar

„Și nu sunt destul de mare  
Ca să-ți dau un dar.”

3

Câte cuvinte formate din două silabe sunt în ultima strofă?

- A) 2 cuvinte      B) 5 cuvinte      C) 6 cuvinte      D) 3 cuvinte



4

Analiza gramaticală corectă a cuvântului **obrajor** este:

- A) substantiv comun, numărul singular, genul masculin  
B) substantiv propriu, numărul plural, genul neutru  
C) substantiv comun, numărul singular, genul feminin  
D) substantiv propriu, numărul singular, genul feminin



5

Alege seria în care toate cuvintele sunt scrise corect:

- A) ficsează, greșeală, șa, deal      B) fixează, greșeală, șa, dial  
C) fixează, greșeală, șa, deal      D) fixează, greșeală, așa, dial

6

Adjectivul care se poate forma din substantivul **bucurie** este:

- A) bucuros      B) bucuria      C) bucuriei      D) bucurii



7

Cel mai mic număr natural impar de patru cifre diferite este:

A) 1 000

B) 1 010

C) 1 003

D) 1 023

8

Numărul cu 1 000 mai mare decât suma dintre 6 235 și 1 353 este:

A) 7 586

B) 8 588

C) 8 657

D) 9 000

9

Într-o seră sunt 1 800 de lalele, iar în alta cu 400 mai puține. Câte lalele au mai rămas dacă din prima seră s-au cules 1 270, iar din a doua seră s-au cules 1 150?

A) 2 900

B) 780

C) 170

D) 560



10

Alege scrierea corectă cu litere a numărului 5 012:

A) cinci mii douăzeci

B) cinci mii doi spre zece

C) cinci mii doisprezece

D) cincimii doisprezece



11

Mă gândesc la un număr, îi adaug 123 și obțin 459. La ce număr m-am gândit?

A) 336

B) 235

C) 603

D) 582

12

Maria are 90 de lei. Ea primește de la mama ei 20 de lei, apoi cumpără o carte de 35 de lei. Câți lei îi rămân?

A) 55 de lei

B) 75 de lei

C) 35 de lei

D) 100 de lei

13

Cum supraviețuiește cactusul în deșert?

A) are frunze mari

B) are tulpină groasă care păstrează apa

C) crește în pădure

D) crește pe apă



14

Care este rolul rădăcinilor la plante?

A) să ajute planta să respire

B) să susțină planta și să o fixeze în sol

C) să atragă insecte

D) să producă flori

15

Ce trebuie să facem pentru a trăi în armonie cu ceilalți?

A) să respectăm regulile


B) să ne certăm des

C) să nu ascultăm de nimeni

D) să vorbim tare



## CLASA a IV-a



### Chipul mamei

de Lucia Muntean

Chipul mamei minunat,  
Astăzi singur l-am pictat:  
Pentru părul ei frumos,  
Inelat și mățâsos  
Am luat rază de soare  
Și am pus-o în culoare;  
Pentru ochii arămii,  
Frunza toamnelor din vii;  
Pentru gura zâmbitoare,  
Rozul parfumat din floare;

Pentru fața ei cea fină,  
Puful casei din grădină.  
Cu a inimii culoare,  
Am pictat și-o sărutare  
Pe obrazu-i luminos,  
Că să-i mulțumesc frumos  
Pentru toate câte face,  
Pentru că mă crește-n pace.

1

Completează enunțul: „**Textul de mai sus este o \_\_\_\_\_, scrisă de un \_\_\_\_\_ și are un număr de 18 \_\_\_\_\_**”.

- A) poveste, poet, rânduri  
C) poezie, creator, strofe

- B) poezie, poet, versuri  
D) scrisoare, autor, paragrafe

2

Substantivul **ochii** este:

- A) substantiv comun, gen masculin, număr plural  
B) substantiv comun, gen masculin, număr singular  
C) substantiv comun, gen feminin, număr plural  
D) substantiv comun, gen feminin, număr singular

3

Părul mamei este descris folosind adjectivele:

- A) frumos, inelat și neted  
C) blond, inelat și mățâsos

- B) frumos, blond și mățâsos  
D) frumos, inelat și mățâsos

4

Verbul **a picta** are forma de viitor, persoana a III-a, număr singular în varianta:

- A) vor picta      B) voi picta      C) va picta      D) a pictat

5

În enunțul „**Ei și ele au pictat felicitări pentru ziua mamei.**”, pronumele personal, persoana a III-a, număr plural, genul feminin este:

- A) ei      B) ele      C) ambele      D) niciunul

6

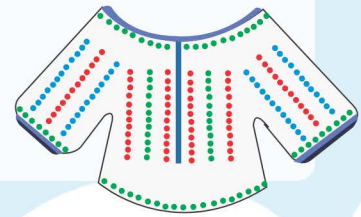
Numărul florilor din grădina mamei este egal cu diferența dintre cel mai mare număr natural format din cinci cifre diferite și cel mai mic număr natural format din trei cifre identice:

- A) 98 564                      B) 95 764                      C) 98 654                      D) 98 456

7

Mama a dăruit fiicei sale o ie cusută cu 546 de mărgelile roșii, mărgelile verzi, dublul numărului mărgelilor roșii, iar mărgelile albastre, triplul numărului mărgelilor roșii. Alege expresia numerică potrivită pentru rezolvarea problemei:

- A)  $546 + 546 \times 2 + 546 \times 3 =$                       B)  $546 + 546 \times 2 - 546 \times 3 =$   
 C)  $546 - 546 \times 2 + 546 \times 3 =$                       D)  $546 + 546 \times 2 + 546 + 3 =$



8

Dacă la câțul numerelor 10 000 și 100 ai adăugat cincimea numărului 5 565 ai obține:

- A) 1 312                      B) 1 123                      C) 1 321                      D) 1 213

9

Maria are de rezolvat următorul exercițiu:  
 Rezultatul corect este:

$$(578 \times 100 - 245 \times 232) : 10 = ?$$

- A) 98                      B) 87                      C) 96                      D) 69

10

Mă gândesc la un număr. Îl triplez, din el scad 10, apoi diferența o împart la 5 și obțin 10. Care este numărul?

- A) 10                      B) 20                      C) 5                      D) 50

11

Speciile de plante și animale pe cale de dispariție pot fi protejate în:

- A) grădini zoologice                      B) rezervații naturale                      C) parcuri                      D) grădini

12

Ce se întâmplă cu corpurile care au densitatea mai mare decât apa?

- A) plutesc                      B) se dizolvă                      C) se scufundă                      D) se sparg

13

În anul 1600 s-au unit pentru prima data cele trei provincii românești: Țara Românească, Transilvania și Moldova. Această unire fost realizată de :

- A) Mihai Viteazul                      B) Alexandru Ioan Cuza  
 C) Ștefan cel Mare                      D) Mircea cel Bătrân

14

Agricultura este activitatea economică care se ocupă cu:

- A) creșterea animalelor                      B) cultivarea plantelor  
 C) cultivarea viței de vie                      D) cultivarea plantelor și creșterea animalelor

15

Valoarea morală prin care demonstrezi că îți pasă de ceilalți este:

- A) egoism                      B) altruism                      C) răutate                      D) sinceritate