

## CLASA PREGĂTITOARE

Era iarnă. În timpul nopții începuse să ningă, iar zăpada se așternea în grămezi uriașe. Vulpea adulmeca mirosul zăpezii, iar bufnița simțea pe aripi fulgii înghețați pe când zbura peste pădurea luminată de lună. Șase iepurași dormeau, cuibăriți în adâncul vizuinii.

– Treziți-vă! strigă iepuroaica. Veniți să ne jucăm în zăpadă!

Unul câte unul, iepurașii ieșiră din vizuină și rămaseră uimiți la vederea păturii albe ce acoperea întreg pământul.

– Haideți să tragem o bulgăreală! spuse mama. Tot ce aveți de făcut e să adunați niște zăpadă și să o strângeți într-o minge... așa!

– Și apoi? întrebă iepurașul cel mic.

– Apoi aruncăm cu bulgării unul în altul.

Iepurașii începură să facă bulgări. Nu le ieșeau la fel de bine ca ai mamei pentru că lăbuțele lor erau foarte mici, în schimb, erau sprinteni. Cât pe ce să câștige jocul, când mamei îi veni altă idee minunată.

– Haideți să facem îngeri de zăpadă!

– Îngeri de zăpadă? se mirară iepurașii.

Mama se întinse pe spate în zăpadă și le arătă iepurașilor cum să facă. Toți șase se întinseră pe jos și începură să contureze îngerașii pe zăpadă.


– lupiii! larna este minunată! strigară iepurașii.

S-au jucat din zori și până-n seară, profitând de magia iernii.

A fost o zi magică pentru cei șase iepurași și mama lor. Magie și bucurie în miez de iarnă!

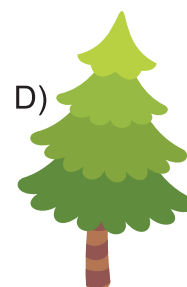

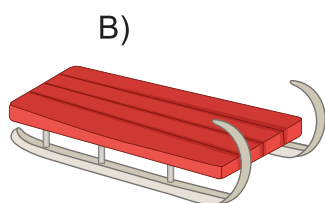
1

Alege imaginea a cărei denumire începe cu sunetul **I**.



2

Alege imaginea a cărei denumire este formată din două silabe.



3

Din câte cuvinte este formată propoziția următoare?

A fost o iarnă magică.

A) 3 cuvinte

B) 4 cuvinte

C) 5 cuvinte

D) 2 cuvinte


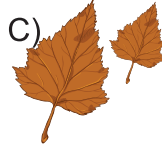

4

Alege propoziția adevărată.

- A) Iepurașii au făcut un om de zăpadă.
- B) Mama și iepurașii au făcut îngeri în zăpadă.
- C) Iepurașii se jucau cu frunzele.
- D) Mama avea trei iepurași.

5

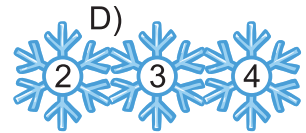
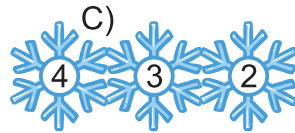
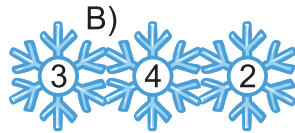
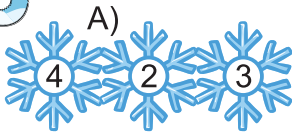
Ascultă ghicitoarea și alege imaginea corespunzătoare.



Parc-ar fi niște petale,  
Ori steluțe ce dansează.  
Norii le presară iarna  
Și pe gene ți le așează.

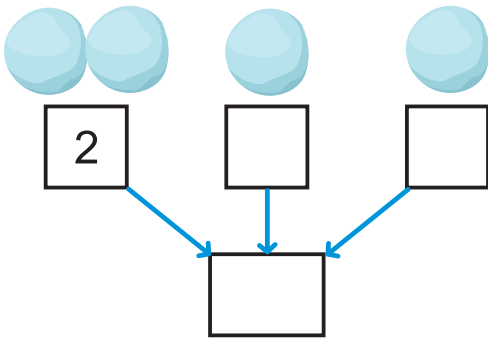
6

Alege mulțimea fulgilor pe care numerele sunt așezate în ordine crescătoare.



7

Câți bulgări sunt în total? Compune numărul lor pornind de la imagini.



- A) 4
- B) 5
- C) 3
- D) 2

8

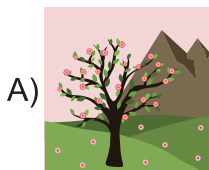
Descoperă numărul buturugii pe care s-a așezat veverița.



- A) 5
- B) 3
- C) 1
- D) 4

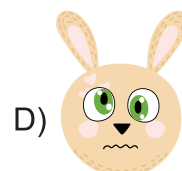
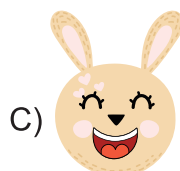
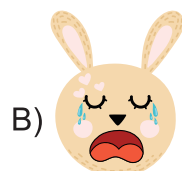
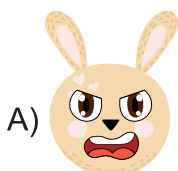
9

Arata-i lui Moș Martin anotimpul în care trebuie să hiberneze.



10

Alege imaginea care reprezintă starea/emoțiile iepurașilor în timp ce se joacă.





Ningea cu fulgi mari, coborând din cer în zbor leneș. Până spre seară, totul era sub o plapumă pufoasă de omăt gros. Neaua este cea mai bună prietenă a copiilor, doar știți și voi!

Unii copii și-au scos săniuțele și au pornit la derdeluș. Alții, cum au ieșit afară, au început să înalțe un om de zăpadă. I-au pus ochii din doi tăciuni negri, iar dintr-o perie veche au meșterit mândrețe de sprâncene. Pentru dinți, fetele au făcut rost de câteva semințe de dovleac. Dintr-un morcov și o sfeclă i-au făcut un nas și doi obraji roșii ca para focului. Pe cap i-au pus o căciulă veche găsită în pod.

N-a durat mult și un pițigoi s-a urcat drept pe nas și a început să ciugulească din morcov. Câteva vrăbiuțe puse pe șotii au dat și ele năvală.

Un băiat mai mare ne spune că în această perioadă a anului și păsările au nevoie de adăpost și mâncare.

– Atunci să vină toate păsările aici! Vom face rost de firimituri de pâine și le vom construi căsuțe!

1

Cuvintele **pârtie, sanie, vrăbiuță, bucurie**:

A) au același număr de silabe  
C) se termină cu aceeași literă

B) conțin litera **i**  
D) încep cu aceeași literă



2

Despărțirea în silabe a cuvântului **iarna** este:

A) ia-rna

B) i-ar-na

C) iar-na

D) ia-rn-a

3

Cu ce au mers copiii la derdeluș?

A) sănii

B) patine

C) schiuri

D) mingi



4

Cuvântul cu înțeles asemănător pentru cuvântul **omăt** este:

A) frig

B) gheață

C) fulgi

D) zăpadă

5

**Copiii i-au pus omului de zăpadă:**

A) ochi, nas, dinți, obraji, mâini

B) ochi, sprâncene, dinți, nas, obraji

C) nas, ochi, sprâncene, vestă

D) obraji, nas, dinți, căciulă, pantofi

6

Care este ordinea cuvintelor pentru a forma o propoziție?

prietena

neaua

copiilor

este

(M)

(R)

(A)

(I)

A) M A R I

B) M I A R

C) M I R A

D) R I M A

7

Găsește numărul care se ascunde sub fiecare fulg.

$$4 + \text{fulg} = 5$$

$$\text{fulg} + 5 = 9$$

$$\text{fulg} - 3 = 3$$

$$10 - \text{fulg} = 7$$

A) 1, 4, 3, 3

B) 0, 4, 6, 3

C) 1, 4, 6, 3

D) 2, 4, 5, 3

8

Pe derdeluș au ieșit 5 băieți și 2 fete. Câți copii sunt în total?

A) 7

B) 6

C) 3

D) 5



9

Numărul format din 2 unități și 1 zece reprezintă numărul bulgărilor de zăpadă pregătiți de copii. Acesta este:

A) 21

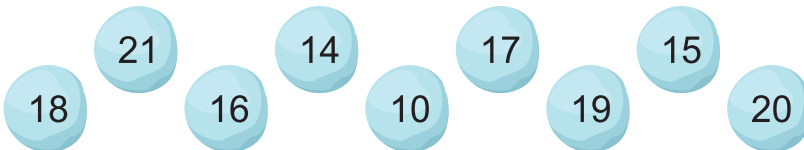
B) 12

C) 20

D) 10

10

Alege numerele mai mari decât 15, dar mai mici decât 21.



A) 21, 17, 18, 16, 19

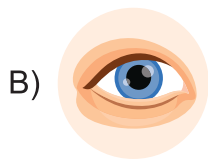
B) 17, 15, 18, 19, 20

C) 14, 18, 16, 19, 20

D) 17, 18, 16, 19, 20

11

Organul de simț specific mirosului este:



12

Sunt o persoană minunată pentru că:

A) am grijă de animale

B) am un joc nou

C) am o bicicletă nouă


D) mă laud





# CONCURSUL NAȚIONAL „SUPERELEV”

AN ȘCOLAR 2023-2024  
ETAPA I (27-29 NOIEMBRIE)



PUNCTAJ

## CLASA a II-a

Într-o noapte înstelată, Zâna Iarnă și-a făcut apariția în mantia ei sclipitoare. Zburând pe deasupra câmpiilor, văilor, dealurilor și munților, a scuturat mantia de nea acoperind pământul cu o plapumă pufoasă și rece. Totul era de un alb imaculat.

Pădurea părea pustie, însă dintr-o scorbură a ieșit o micuță veveriță.

– Ce frumoasă e pădurea! spuse ea.

– Da! E frumoasă! îi răspunse o ciocănitore din apropiere. Păcat că multe animale se ascund în culcușurile lor!

– Așteaptă puțin, ai să vezi cum apar timide să caute de mâncare, spuse veverița.

Nu peste mult timp, apare un iepuraș cenușiu. În spatele lui venea timid o căprioară însoțită de puiul ei. Pădurea intra încet-încet în anotimpul iarna.

1

Ce zână și-a făcut apariția în pădure, în noaptea înstelată?

- A) Primăvara      B) Iarna      C) Toamna      D) Vara

2

Cine a ieșit din scorbura unui copac?

- A) un iepuraș cenușiu      B) o ciocănitore  
C) o mică veveriță      D) un pui de căprioară

3

Unde se ascundeau animalele din pădure?

- A) în culcușurile lor      B) după copaci  
C) sub zăpadă      D) în iarbă

4

Combină toate literele.  
Ce cuvânt ai obținut?



- A) capră      B) ciocănitore      C) cioară      D) căprioară

5

Câte cuvinte din text conțin grupurile de litere învățate?

- A) 7      B) 6      C) 3      D) 5

6

Despărțirea corectă în silabe a cuvântului „veveriță” este:

- A) ve-ver-i-ță      B) ve-ve-ri-ță      C) ve-ve-ri-ț-ă      D) vev-e-ri-ță



7

Veverița vrea să știe câte alune mai are în scorbura dacă a avut 345 și a mâncat 120. Vrei să o ajuți să găsească răspunsul corect?

A) 465

B) 325

C) 245

D) 225



8

Ciocănițoarea te pune la încercare să găsești șirul de numere corect:

A) 315, 316, 317, 318, 320

B) 304, 309, 306, 308, 310

C) 800, 795, 790, 785, 780

D) 507, 610, 710, 810, 910

9

Iepurașul vrea să scrie numere pare de trei cifre care au pe locul zecilor cifra 8. Îl ajuți să aleagă varianta corectă?

A) 208, 318, 428, 538, 648

B) 382, 484, 580, 686, 782

C) 850, 852, 854, 856, 858

D) 981, 683, 585, 487, 989

10

Căprioara caută predecesorul și succesorul numărului 800. Ce variantă trebuie să aleagă?

A) 799 și 801

B) 790 și 810

C) 700 și 900

D) 798 și 802

11

Zâna Iarnă a acoperit exercițiul puiului de căprioară cu un fulg de nea. Ce număr se ascunde sub fulg?

$$435 = \text{❄} - 123$$

A) 312

B) 328

C) 558

D) 552

12

Stabiliți ordinea corectă a semnelor „+” și „-” pentru a efectua operații corecte.

$$69 \bigcirc 28 = 97; \quad 53 \bigcirc 39 = 14; \quad 36 \bigcirc 36 = 72; \quad 76 \bigcirc 48 = 28$$

A) „+” „+” „-” „-”

B) „+” „-” „-” „+”

C) „-” „+” „-” „-”

D) „+” „-” „+” „-”

13

Cea mai înaltă formă de relief pe care o regăsim în text este:

A) câmpia




B) dealul

C) muntele

D) valea

14


Cum se simte veverița când iese din scorbura și vede peisajul de iarnă?





# CONCURSUL NAȚIONAL „SUPERELEV”

AN ȘCOLAR 2023-2024  
ETAPA I (27-29 NOIEMBRIE)



PUNCTAJ

## CLASA a III-a

Ninsese lin de trei zile. Râul Argeș era acum înghețat și troienit.

Tudoriță era foarte bucuros că venise vacanța de iarnă și îi ceru lui Moș Irimia o săniuță. După ce bătrânul i-a dăruit-o, l-a luat pe fratele său Matei și au pornit la săniuș, pe deal. Unul după altul își dădeau drumul la vale chiuind de bucurie.

Atunci a fost momentul în care vecinul lor, Vasile al lui Pânzaru, l-a învățat pe Tudoriță să se dea cu sania:

– Măi Tudoriță, îndreaptă sania cu călcâiele și apoi să vezi că merge ca trenul!

El s-a așezat primul pe sanie, iar Tudoriță în spatele lui. Au pornit la vale pe derdeluș. Săniuța aluneca fulgerător. Copiii simțeau că obrajii le luau foc, iar ochii le străluceau.

– Ei, îți place? a întrebat Vasile.

– Foarte mult! i-a răspuns Tudoriță.

1 Ce titlu crezi că s-ar potrivi textului de mai sus?

- A) Zâna Iarnă      B) La săniuș      C) Prima ninsoare      D) Tradiții de iarnă

2 Fragmentul face parte dintr-un text:

- A) narativ      B) liric      C) informativ      D) nonliterar

3 Dialogul din text se poartă între:

- A) Tudorică și Vasile      B) Tudoriță și Matei  
C) Tudoriță și Moș Irimia      D) Tudoriță și Vasile



4 Ce emoții au trăit copiii când au coborât cu săniuța?

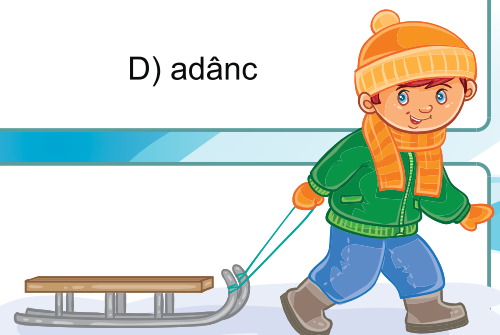
- A) frică      B) indiferență      C) bucurie      D) plictiseală

5 Cuvântul „troienit” are același înțeles cu:

- A) rece      B) înzăpezit      C) murdar      D) adânc

6 Cuvântul „mergea” are:

- A) 6 litere, 5 sunete      B) 6 litere, 6 sunete  
C) 5 litere, 6 sunete      D) 5 litere, 5 sunete



7 Moș Irimia locuiește pe ulița principală, la numărul 16. Scris cu cifre romane, numărul devine:

A) X

B) IX

C) XVI

D) XV

8 Numărul scris pe sania lui Vasile este predecesorul numărului saniei lui Tudoriță. Dacă sania lui Tudoriță are numărul 1 003, atunci Vasile și-a numerotat sania:

A) 1 005

B) 1 006

C) 1 004

D) 1 002

9 Copiii fac bulgări de zăpadă. Cine a fost cel mai harnic?

Măriuca	Vasilică	Tudoriță	Matei
1 354	1 435	1 345	1 453

A) Matei

B) Vasilică

C) Măriuca

D) Tudoriță

10 Sâmbătă, copiii s-au dat cu sania de 1 623 de ori, iar duminică cu 128 de ori mai puțin decât în ziua precedentă. Câte coborâri au făcut copiii în total, în weekend?

A) 1 495

B) 3 218

C) 3 118

D) 3 474

11 Derdelușul are o lungime de 2 458 metri. Rotunjită la ordinul miilor, lungimea lui devine:

A) 2 500 m

B) 2 000 m

C) 2 400 m

D) 3 000 m

12 Tudoriță ar vrea să afle numărul copiilor din sat. El știe că 234 dintre ei au plecat la joacă, iar 567 au rămas în curți. Ce calcul trebuie să facă Tudoriță?

A)  $x = 567 - 234$

B)  $x + 567 = 234$

C)  $x + 234 = 567$

D)  $x - 234 = 567$

13 Odată cu venirea primăverii, razele soarelui devin tot mai puternice. Ce crezi că se va întâmpla cu apa înghețată a râului?

A) se va topi, apa va redeveni lichidă

B) va rămâne la fel, solidă

C) se va evapora, va deveni gazoasă

D) se va transforma în fulgi de zăpadă

14 Derdelușul copiilor a fost poluat cu ambalaje de la dulciuri și sticle de plastic. Cum pot contribui copiii la curățarea lui?

A) îngroapă în zăpadă ambalajele

B) cheamă părinții să le strângă

C) adună într-un sac ambalajele

D) mută ambalajele într-o parte

15 Una dintre persoanele menționate în text este:

A) râul Argeș

B) Moș Irimia

C) sania lui Tudoriță

D) derdelușul

## CLASA a IV-a

În acest an, Moș Crăciun a hotărât să apeleze și la ajutorul vrăbiuțelor, pe lângă harnicii lui reni. Acestea au misiunea de a colecta scrisorile de la copii, din toate cele patru puncte cardinale ale Pământului.

Haideți să vedem cât de bine s-au descurcat hărnicuțele ajutoare ale lui Moș Crăciun!

1

Unele scrisori aveau ca text o compunere. Care sunt părțile unei compuneri?

- A) introducere, alineat, cuprins  
B) introducere, cuprins, încheiere  
C) alineat, cuprins, fragment  
D) introducere, cuprins, fragment

2

Alege varianta corectă:

- A) Moș Crăciun va trebui să citească toate scrisorile.  
B) Moș Crăciun v-a trebui să citească toate scrisorile.  
C) Moș Crăciun vor trebui să citească toate scrisorile.  
D) Moș Crăciun v-o trebui să citească toate scrisorile.



3

În enunțul: „**Vrăbiuțele nu-și puteau ascunde încântarea la gândul că vor fi ajutoarele Moșului.**” substantivul subliniat denumește:

- A) o însușire  
B) o ființă  
C) o acțiune  
D) o stare sufletească

4

Cuvintele cu sens asemănător pentru **cadou, zăpadă, copac** sunt:

- A) cadouri, omăt, brad  
B) dar, omăt, brad  
C) dar, nea, pom  
D) dar, alba, pom

5

Identifică seria de verbe la timpul trecut:

- A) zbor, trecut, voi citi, au primit  
B) ai zburat, trecut, au citit, voi primi  
C) am zburat, trecut-am, ai citit, ați primit  
D) zurat-ai, am trecut, voi citi, primit

6

În enunțul: „Un bătrân cu părul alb mi-a cumpărat un măr roșu.” cuvântul bătrân este:

- A) adjectiv  
B) pronume  
C) substantiv  
D) verb

7

Vrăbiuțele au zburat în cele patru colțuri ale lumii pentru a strânge scrisorile de la copii. Cele din N (nord) au adus 562 380 scrisori, cele din S (sud) au adus 562 030 scrisori, cele din E (est) au adus 562 120 scrisori, iar cele din V (vest) au adus 562 260. Așezați numărul scrisorilor în ordine descrescătoare.

- A) N, V, E, S      B) S, N, E, V      C) N, S, E, V      D) E, S, N, V



8

Care dintre cele patru numere de la exercițiul 7, rotunjite la ordinul miilor, ajunge la 562 000?

- A) niciunul      B) toate      C) primele două      D) ultimele două

9

Cu cât au colectat mai multe scrisori vrăbiuțele din N față de cele din E?

- A) cu 260 de scrisori      B) cu 120 de scrisori  
C) cu 160 de scrisori      D) cu 20 de scrisori



10

Câte scrisori trebuie să mai adune vrăbiuțele din S pentru a ajunge la 600 000 de scrisori?

- A) 38 070      B) 38 970      C) 48 070      D) 37 970

11

Se scrie cu litere numărul scrisorilor aduse de vrăbiuțele din V, astfel:

- A) cinci sute șase zeci și două de mii două sute șase zeci  
B) cinci sute șase zeci și două de mii două sute șazeci  
C) cinci sute șazeci și două de mii două sute șazeci  
D) cinci sute șazeci și două de mii o sută douăzeci

562 260



12

În anul 1989, în preajma sărbătorilor de Crăciun, a avut loc Revoluția Română. Scrieți anul 1989 cu cifre romane.

- A) MCMVXXXIX      B) MCMLXXXIX      C) MMCLXXIIX      D) MMCMLXXIXI

13

De la guralivele vrăbiuțe am aflat că ele nu părăsesc țara pe timpul iernii și că se înmulțesc prin:

- A) icre      B) pui vii      C) mormoloci      D) ouă

14

Renii se înmulțesc prin \_\_\_\_\_ și sunt hrăniți cu \_\_\_\_\_.

- A) ouă, lapte matern      B) pui vii, lapte matern  
C) pui, insect      D) pui, hrană vegetală

15

Și păsările, ca și oamenii, își întemeiază o familie. Completează spațiile:  
„Păsările își construiesc un \_\_\_\_\_, unde își depun \_\_\_\_\_, din care ies \_\_\_\_\_, hrăniți de \_\_\_\_\_ până ajung la maturitate.”

- A) culcuș, ouă, mormoloci, alte păsări      B) cuib, icre, pui vii, păsări  
C) cuib, pene, pui vii, părinți      D) cuib, ouă, pușori, părinți