

REVISTA SUPER ELEV


2022-2023





CONCURSUL NAȚIONAL „SUPER-ELEV”

EDIȚIA 2022-2023
ETAPA I (14-15 FEBRUARIE)



CLASA PREGĂTITOARE

PARTICIPANT _____

ȘCOALA _____ CLASA _____

Bună! Eu sunt Rareș și îndrăgesc dinozaurii. Am fost la muzeu cu bunicul și am fost fascinat de mărimea și înfățișarea lor. Acum am primit o cutie magică și încerc să îi descopăr secretul. Bunicul nu mi-a spus ce este în ea. Mă ajuți să descopăr?



1 Care este litera inițială pentru imaginea de mai jos?



A) S

B) N

C) D

D) P

2 Încercuiește seria în care sunt doar cuvinte formate dintr-o silabă.


- A) circ, arici, tren, plec
- B) arici, tren, plec, merg
- C) plic, tren, merg, trei
- D) tren, merg, trei, are

3 Privește imaginea. Alege propoziția potrivită.


- A) Alina are o carte.
- B) Miruna face un tort.
- C) Pe masă este un dinozaur.
- D) Tortul este de ciocolată.



4 Alege seria de imagini ale căror denumiri conțin sunetul „E” în interior.




A)



B)



C)



D)

5 Câte cuvinte ilustrate mai jos conțin sunetul „S”?



A) 4

B) 3

C) 5

D) 6

6 Dinozaurii au găsit un șir de numere. Găsește intrusul și încercuiește varianta corectă.



A) 2

B) 0

C) 5

D) 8

7 Găsește numărul care se ascunde sub fiecare ou de dinozaur.

$$2 + \text{egg} = 7 \quad \text{egg} - 3 = 3 \quad 9 - \text{egg} = 3$$


A) 5, 0, 6

B) 5, 6, 3

C) 4, 6, 6

D) 5, 6, 6

8 Alege numerele mai mari decât 3, dar mai mici decât 10, din șirul de mai jos.



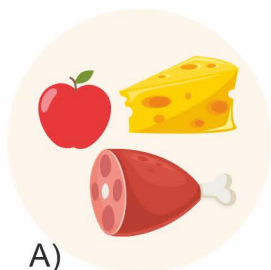
A) 10, 6, 9, 8, 7

B) 6, 9, 8, 5, 7

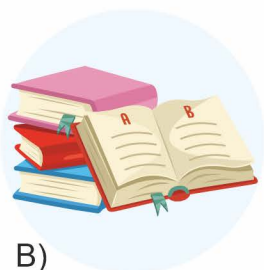
C) 6, 1, 8, 5, 7

D) 3, 6, 9, 8, 7

9 Dinozaurii erau animale puternice. Alege ce crezi că oferă putere / energie corpului omenesc.



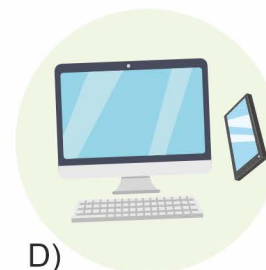
A)



B)




C)



D)


10 Alege emoția pe care o trăiește Rareș când primește „cutiuța surpriză”.




A)



B)



C)




D)



CONCURSUL NAȚIONAL „SUPER-ELEV”

EDIȚIA 2022-2023
ETAPA I (14-15 FEBRUARIE)



PUNCTAJ

CLASA I

PARTICIPANT _____

ȘCOALA _____ CLASA _____



Dragi copii, apelez la ajutorul vostru pentru a mă scăpa de necazuri! Mama vitregă a reușit să facă o vrajă și să îl transforme pe prinț într-un iepuraș. Vraja se poate desface numai dacă rezolvați corect sarcinile de mai jos. Sunt convinsă că mă pot baza pe voi!

Prietena voastră, Albă ca Zăpada

01 Cuvântul „zăpadă” are același înțeles cu:

- A) albă B) omăt C) ninsoare D) fulg

02 În cuvântul exprimat în imaginea alăturată, sunetul „i” se repetă de:

- A) 5 ori B) 2 ori C) 1 ori D) 3 ori



03 Cuvintele „iepure, iubire, mere, pădure”:

- A) au același număr de silabe B) conțin litera „u”
C) se termină cu aceeași literă D) încep cu aceeași literă

04 Ce cuvânt se formează cu toate silabele scrise pe ciupercuță?

- A) tocul B) ascult C) tăcută D) ascultător



05 Dacă ordonăm toate cuvintele: „are, piticul, lampă, o, nouă” vom obține propoziția:

- A) Am o lampă nouă.
B) Piticul are o lampă.
C) Are o lampă nouă.
D) Piticul are o lampă nouă.



06 Ce propoziție nu se potrivește cu desenul alăturat?

- A) Piticul are un iepure.
- B) Iepurele mănâncă un morcov.
- C) Tricoul piticului este alb.
- D) Piticul are barbă.



07 Piticii locuiesc în casa cu numărul 9. Ce număr au căsuțele vecinilor din stânga și din dreapta lor?

- A) 10 și 11
- B) 8 și 7
- C) 8 și 10
- D) 8 și 9



08 Află numărul cu 3 mai mic decât 8 pentru a descoperi câte ferestre are casa piticilor.

- A) 8
- B) 6
- C) 11
- D) 5

09 Pentru a afla vârsta celui mai mic pitic descoperă regula și continuă șirul cu încă un număr: **11, 13, 15, ...**

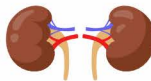
- A) 17
- B) 16
- C) 15
- D) 14



0 Cifrul de la ușa căsuței reprezintă cel mai mic număr impar format din două cifre diferite.

- A) 10
- B) 11
- C) 12
- D) 13

11 Organul care are rolul de a coordona activitatea întregului corp este:

- A) 
- B) 
- C) 
- D) 

12 Cu ajutorul vostru vraja fost dezlegată, iar prințul și Albă ca Zăpada sunt fericiți și vă mulțumesc pentru că ați fost prieteni adevărați. Alege afirmația care nu se potrivește unui bun prieten.


- A) Vorbesc politicos.
- B) Am răbdare.
- C) Împrumut jucăriile.
- D) Mă supăr.





CONCURSUL NAȚIONAL „SUPER-ELEV”

EDIȚIA 2022-2023
ETAPA I (14-15 FEBRUARIE)



PUNCTAJ

CLASA a II-a

PARTICIPANT _____

ȘCOALA _____ CLASA _____

Micul bucătar își dorește să pregătească cea mai gustoasă supă. El trebuie să aleagă ingrediente proaspete, să toace legumele, să le adauge pe rând, apoi să fiarbă compoziția pentru a avea o supă gustoasă!

Vă solicită ajutorul și vouă, rezolvând sarcinile ce urmează ca să duceți misiunea la bun sfârșit și să avem o supă delicioasă!



- 1 Personajul aventurii noastre este:

A) un bucătar B) un meșter C) un grădinar D) un brutar
- 2 Micul bucătar trebuia să:

A) toace legumele, adauge pe rând, fiarbă compoziția
B) aleagă ingrediente, adauge pe rând, fiarbă compoziția
C) aleagă ingrediente, toace legumele, adauge pe rând
D) aleagă ingrediente, toace legumele, adauge pe rând, fiarbă compoziția
- 3 Despărțirea corectă în silabe a cuvântului „**ingrediente**” este:





A) ingre-di-ente B) in-gre-di-en-te C) in-gredi-en-te D) in-gre-di-ente
- 4 În enunțul „**În supă adăugăm legume precum: morcov, țelină, ardei și ceapă.**” s-a folosit virgula:

A) între cuvintele unei enumerări
B) pentru o explicație
C) pentru a separa un cuvânt care arată o strigare
D) la finalul enunțului
- 5 Încercuiește cuvântul cu înțeles asemănător cuvântului „**misiune**”:

A) lecție B) sarcină C) competiție D) întrecere
- 6 Încercuiește cuvântul cu înțeles opus cuvântului „**a finalizat**”:

A) a ascultat B) a terminat C) a început D) a adus

Pentru a pregăti prânzul, micul bucătar merge la piață să facă cumpărături.
El găsește următoarele legume, expuse, în următoarele cantități:


ROȘII	ARDEI	MORCOVI	CARTOFI
			
176 kg	73 kg	31 kg	143 kg

- 7 Alege legumele cu cel mai mare număr impar format din două cifre.
A) roșii B) ardei C) morcovi D) cartofi
- 8 Calculează cantitatea totală de ardei, morcovi și cartofi.
A) 247 kg B) 147 kg C) 347 kg D) 115 kg
- 9 Calculează numărul cu 6 mai mic decât diferența dintre numărul de kilograme de roșii și cel de ardei.
A) 103 B) 109 C) 97 D) 125
- 10 Bucătarul are 4 plase, în fiecare încăpând maxim 10 kg. Care este sortimentul de legume pe care îl poate transporta în totalitate?
A) roșii B) ardei C) morcovi D) cartofi
- 11 Pentru a cumpăra 4 kilograme de roșii, bucătarul are un buget de 50 lei. Un kilogram de roșii costă 9 lei. Află prin adunare repetată cât costă roșiile și dacă îi ajung banii.
A) da și îi mai rămân 24 lei B) da și îi mai rămân 14 lei
C) nu, îi mai trebuie 24 lei D) nu, îi mai trebuie 14 lei
- 12 Bucătarul pregătește supa de legume în 2 ore. Dacă a început prepararea la ora 10:00 la ce oră va fi gata supa?
A) la 11:00 B) la 12:30 C) la 13:00 D) la 12:00
- 13 Alege doar legumele din care poți consuma rădăcina în stare crudă.
A) roșii B) ardei C) morcovi D) cartofi
- 14 Ce beneficii avem atunci când consumăm legume și fructe?
A) frumusețe B) bucurie C) creștem sănătoși D) tristețe



CONCURSUL NAȚIONAL „SUPER-ELEV”

EDIȚIA 2022-2023
ETAPA I (14-15 FEBRUARIE)



CLASA a III-a

PARTICIPANT _____

ȘCOALA _____ CLASA _____

Fulgușor, un fulg de zăpadă curajos, locuia împreună cu familia sa într-un nor pufos. Abia aștepta să își înceapă călătoria spre Pământ pentru a aduce multă bucurie copiilor. Însă, se temea foarte mult de razele Soarelui, care l-ar fi transformat într-o picătură de apă. Totuși, fiind curajos, și-a luat inima în dinți și a început călătoria.

În timp ce dansa prin văzduh, a simțit o căldură neobișnuită. Și-a dat seama că era în pericol și și-a grăbit zborul. Pentru a duce călătoria la bun sfârșit, are nevoie de ajutorul vostru. Îl puteți ajuta rezolvând corect toate exercițiile.

Este convins că îl veți salva! Mult succes!



- 1 Schema corectă pentru cuvântul „**ninsoare**” este:
A) CVCCVCV B) CVCCVVCV C) VCVCCVC D) CVCVVVCV

- 2 Alege propoziția corectă:
A) Sunetul se aude și se scrie.
B) Vocalele se pronunță cu ajutorul altor sunete.
C) Litera este semnul grafic al sunetului.
D) Sunetele care se pronunță cu ajutorul altor sunete se numesc vocale.

- 3 Fulgușor rămâne împotmolit în vârful unui brad. Care este varianta corectă de despărțire în silabe a cuvântului „**împotmolit**”?
A) împ-ot-mo-lit B) îm-pot-mo-lit C) îm-pot-mol-it D) împ-ot-mol-it

- 4 „**Fulgușor, un fulg de zăpadă curajos, locuia împreună cu familia lui într-un nor pufos.**”
În acest enunț întâlnim:
A) cinci substantive comune și două substantive proprii
B) două substantive comune și șase substantive proprii
C) șase substantive comune și două substantive proprii
D) un substantiv propriu și patru substantive comune

- 5 Ajuns pe Pământ, Fulgușor poposește pe un boboc sfios de ghiocel. Care dintre următoarele șiruri conține doar cuvinte cu sens asemănător cuvântului „**sfios**” ?
A) timid, retras, rușinos
B) brav, viteaz, curajos
C) dezghețat, prietenos, inimos
D) semeț, mândru, țăntoș

6

În expresia „fulg de zăpadă curajos”, cuvântul subliniat este:

- A) substantiv comun B) pronume C) adjectiv D) substantiv propriu

7

Dacă mărești cu 385 diferența dintre succesorul numărului 8 320 și predecesorul numărului 999, vei obține:

- A) 7 707 B) 7 608 C) 7 718 D) 7 708

8

În călătoria lui spre Pământ, Fulgușor poposește pe 7 norișori. Pe fiecare norișor se întâlnește cu câte 9 prieteni. Dintre toți, doar jumătate ajung pe Pământ. Câți fulgi de zăpadă ajung pe Pământ?

- A) 32 B) 63 C) 31 D) 40

9

Rezultatul calculului $8\ 000 - 7\ 973$ scris cu cifre romane este:

- A) XVII B) XXVII C) VII D) XIV

10

Fulgușor poposește într-o grădină cu 174 de ghiocei. Dintre aceștia 72 sunt îmbobociți, de 3 ori mai puțini sunt înfloriți, iar restul sunt încolțiți. Câți ghiocei din grădina lui Fulgușor sunt încolțiți?

- A) 88 B) 78 C) 76 D) 86

11

Calculează respectând ordinea efectuării operațiilor și vei afla câți membri are familia lui Fulgușor.

$$93 - 12 : 4 + 9 \times 42 + (72 - 12) : 3 : 10 =$$

- A) 154 B) 94 C) 470 D) 234

12

Dublul triplului lui 8 este mai mare decât triplul dublului lui 4 cu:

- A) 30 B) 12 C) 22 D) 24

13

Atins de razele calde ale soarelui, fulgul nostru de zăpadă se transformă într-o picătură de apă. Acest lucru se întâmplă datorită procesului de:

- A) transpirație B) evaporare C) topire D) solidificare

14


Îndrăzneala lui Fulgușor de a porni spre Pământ este un act de:

- A) lașitate B) curaj C) prietenie D) răutate



CONCURSUL NAȚIONAL „SUPER-ELEV”

EDIȚIA 2022-2023
ETAPA I (14-15 FEBRUARIE)



PUNCTAJ

CLASA a IV-a

PARTICIPANT _____

ȘCOALA _____ CLASA _____

Mama i-a pregătit Anei o vacanță surpriză într-una dintre cele mai frumoase stațiuni montane, Sinaia, dar înainte de a putea porni la drum, trebuie să rezolve câteva sarcini de lucru.

Ești pregătit să o ajuți în rezolvarea lor?



1 Seria următoarelor cuvinte: „**sanie, stațiune, jachetă, Sinaia, zăpadă**” conține:

- A) subst. comune, nr. plural
- B) subst. comune, nr. singular
- C) subst. proprii, nr. singular
- D) subst. comune și proprii.

2 Câte greșeli găsești în propoziția „**Întro zi sau întâmplat multe lucruri neobișnuite.**”?

- A) două
- B) patru
- C) niciuna
- D) cinci

3 Găsește perechea de cuvinte cu sens asemănător.

- A) vuiet – tihnă
- B) întunecată – înseninată
- C) liniștit – calm
- D) lin – repede

4 În cuvântul „**zăpadă**”, ordinea corectă a sunetelor este scrisă în varianta:

- A) CCVCCV
- B) CVCVCV
- C) VCCVCV
- D) VCVCVC

5 Ana vrea să-și anunțe prietenii printr-un mesaj scurt că se află la munte. Ea va trimite:

- A) un afiș
- B) o invitație
- C) o carte poștală
- D) o scrisoare

6 Găsește cuvântul care **nu** este despărțit corect în silabe:

- A) tem-pe-ra-tu-ră
- B) pa-ti-noar
- C) încăl-zi-re
- D) te-le-ca-bi-nă

7 În orașul Sinaia poți vizita Castelul Peleş, construit în anul 1874. Cum poți scrie cu cifre romane anul construcției?

- A) MMCCCLXXXIX B) MDCCCLXXIV C) MDCCCLXXXIX D) MCCCMLXXXIX

8 În luna ianuarie, Castelul Peleş a fost vizitat zilnic de 56 de copii. Câți copii au vizitat în total castelul știind că luna ianuarie are 31 de zile?

- A) 1 500 B) 1 736 C) 1 800 D) 1 710

9 Un sfert din cei 56 de copii care au vizitat Castelul Peleş și-au cumpărat câte un magnet cu 10 lei bucata. Câți bani a încasat Castelul Peleş din vânzarea acestora?

- A) 84 lei B) 104 lei C) 140 lei D) 182 lei

10 Ana pleacă din București la ora 8:40 și ajunge în Sinaia la ora 11:20. Cât timp durează călătoria?

- A) 160 minute B) 180 minute C) 130 minute D) 210 minute

11 Prețul unui bilet la telecabină este de 20 de lei pe zi. Câți lei va plăti Ana pentru a circula cu telecabina în timpul celor 10 zile de vacanță?

- A) 180 lei B) 200 lei C) 150 lei D) 210 lei

12 Locul special amenajat pentru săniuș are forma unui dreptunghi cu lungimea de 220 m și lățimea de 160 m. Calculează perimetrul pârtiei.

- A) 800 m B) 820 m C) 760 m D) 480 m

13 Pentru a se dezvolta, plantele au nevoie de:

- A) un sol hrănitor, apă și lumină B) vânt puternic
C) substanțe chimice D) secetă

14 Familiile preistorice locuiau în:

- A) castele B) peșteri C) case D) corturi

15 Ce dezastru natural provoacă precipitațiile abundente?

- A) cutremur B) secetă C) inundații D) incendii de vegetație

16 Găsește seria corectă a comportamentelor **moral-civice** pe care trebuie să le avem într-o comunitate:

- A) indiferență, răutate, ură, invidie
B) furt, insultă, violență, indiferență
C) bunătate, solidaritate, cinste, responsabilitate
D) lovire, invidie, indiferență, bârfă